

# تقييم الثلاثي الثالث : قراءة

السنة الأولى

المربية : هالة السافي

الاسم و اللقب : .....



حَلَّ فَصْلُ الرَّبِيعِ. أَطَلَّتْ غَزَالَةُ الْكَوْنِ وَبَسَطَتْ أَشِعَّتَهَا.  
خَرَجَ أَيُّهُمْ إِلَى الْبُسْتَانِ لِيَرَفَهُ عَنْ نَفْسِهِ بَعْدَ أَيَّامٍ شَاقَّةٍ  
مِنَ الْإِمْتِحَانَاتِ. تَارَةً يُلَاحِظُ الْفَرَاشَ وَ طَوْرًا يَقْطِفُ  
الْأَزْهَارَ.

فَجَاءَتْ، لَمَحَ جَرَّوًا صَغِيرًا عَالِقًا بِمِصِيدَةٍ. سَالَ الدَّمُ مِنْ  
قَدَمِهِ. هَزَّوَلَ أَيُّهُمْ نَحْوَهُ. خَلَّصَ الطِّفْلُ الْكَلْبَ الْمِسْكِينَ.

قَالَ الْكَلْبُ مُمْتَنًا : "....."

أَجَابَ أَيُّهُمْ : "....."



7- أَكْتُبُ الْجُمْلَةَ الدَّالَّةَ عَلَى أَنَّ أَيُّهُمْ سَاعَدَ الْكَلْبَ.

مع 2 ج

--

## 8- أَبَحْتُ عَنْ مُرَادِفَةِ الْكَلِمَةِ الْمُسْتَطَرَّةِ مِنَ النَّصِّ

مع 2 ب

--	--	--

أَيَّامُ صَغِيَةٍ

.....

**شَاهِدْ** <sup>١٦</sup> **أَيُّهُمْ جَزَوْا.**

.....

أَسْرَعَ إِلَيْهِمْ.

.....

9- أَبَدِي رَأْيِي : مَا رَأَيْكَ فِي مُسَاعَدَةِ أَيُّهُمْ لِلْكَلْبِ؟ لِمَاذَا؟

3 م

--

10 - أَكْمَلُ النَّصِّ مُنْتِجًا حَوَارًا بَيْنَ الْكَلْبِ وَ أَئِهِم.

3 م

[illegible]

3 م


--

[illegible]



معايير التمييز	معايير الحد الأدنى										
	معالجة النص							القراءة الجهرية			
ابداء الرأي											
مع 3	مع 2 ج	مع 2 ب	مع 2أ					مع 1 ج	مع 1 ب	مع 1أ	مستويات التملك
0 2 1.5 1.5	0	0	0					0	0	0	انعدام التملك ( - - - )
	0.75	0.5	1.25	1	0.75	0.5	0.25	1	1	1	دون التملك الأدنى( - - + )
	1.5	1	1.5					2	2	2	التملك الأدنى ( - + + )
	2.25	1.5	2.25	2		1.75		3	3	3	التملك الأقصى( + + + )
5/....	2.25/...	1.5/....	2.25/.....					9/.....			

كده المستوفيق



صديقي الصغير يجب أن :

❖ نقرأ النص جيدا و نقسمه إلى جمل .

❖ أنتبه إلى التعليمات و أجيب .

❖ أتأكد من الإجابة في كل فرصة بالرجوع إلى النص.

❖ أحرص أن تكون القرينة جملة تامة.

❖ أكتب بخط جميل.



# تقديم الثلاثي الثالث : إنتاج كتابي

السنة الأولى

المربية : هالة السافي

الاسم و اللقب : .....



أَتَبَجُّ مَقَامَ الْبِدَايَةِ وَ الْخِتَامِ وَأُغْنِيهِ بِأَوْصَافٍ وَ أَقْوَالٍ



فَجَاءَهُ، تَسَلَّلَ لِيُصِّدُ سَرِقَةَ الْمَنْزِلِ. حِينَ رَأَاهُ  
الْكَلْبُ أَخَذَ يَنْبَحُ حَتَّى فَرَّ. لَمَّا سَمِعَ أَيُّهُمْ صَوْتَ  
كَلْبِهِ عَادَ مُسْرِعًا فَشَاهَدَ مَا جَرَى.





التميز	معايير الحد الأدنى			
	مع 3	مع 2	مع 1	
مع 4	0	0	0	انعدام التملك
				دون التملك الأدنى
				التملك الأدنى
				التملك الأقصى
				المجموع
5/.....				



20



## صديقي الصغير يجب أن :

❖ أحسن عرض العمل وأكتب بخط جميل.

❖ لا أهمل علامات التنقيط.

❖ أنتج شفوياً ما سأكتبه و أنظم أفكاري.

❖ أستعمل مسودة .



❖ أكتب أمام كل صورة.

❖ أستهل عملي بوصف الربيع.

❖ أراجع جيداً ما أكتبه لأتجنب الأخطاء.







# تقديم الثلاثي الثالث : رياضيات

## المربية : هالة السافي

السنة الأولى

الاسم و اللقب : .....

في إختتام السنة الدَّرَاسِيَّة أَقَامَ قِسْمُ السَّنَافِرِ حَفْلَةً.  
عَدَدُ التَّلَامِيذِ 34 وَعَدَدُ الْمَدْعُومِينَ يَفُوقُ عَدَدَ التَّلَامِيذِ بِ  
23 شَخْصًا.

1- كَمْ عَدَدُ الْمَدْعُومِينَ؟

مع 1 أ

مع 2 ب

مع 2 أ

2- أَرْتَبْ أَعْدَادَ الْعَمَلِيَّةِ تَنَازُلِيًّا

..... < ..... < .....

أَعَدَّتْ الْمُعَلِّمَةُ لِلْعَرْضِ 42 قِنَاعًا لِشَخْصِيَّاتٍ مِنْ عَالَمِ  
الْحَيَوَانِ وَ 56 بُدْلَةً وَ 45 قِنَاعًا لِشَخْصِيَّاتٍ مِنْ عَالَمِ  
الْإِنْسَانِ.

### 3- أَرْتَبُ الْأَعْدَادَ تَصَاعُديًّا

مع 2 أ


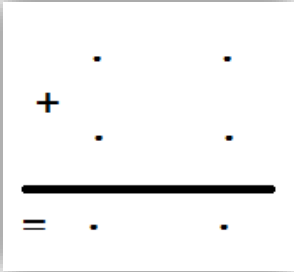
..... > ..... > .....

### 4- كَمْ عَدَدُ الْأَقْنِيعَةِ؟

مع 1 أ

..... = ..... + .....

مع 2 ب



سَتَقَدِّمُ الْمُعَلِّمَةُ 15 هَدِيَّةً وَ 58 بَاقَةَ زُهُورٍ وَ 32 شَهَادَةً

تَشْجِيعٍ وَ 8 مِيدَالِيَّاتٍ وَ 25 شَهَادَةً شُكْرٍ


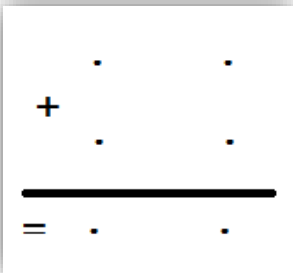


### 5- كَمْ عَدَدُ الشَّهَادَاتِ؟

مع 1 أ

..... = ..... + .....

مع 2 ب



وَفَرَّتْ الْمُعَلِّمَةُ بَعْضَ الْقِطْعِ النَّقْدِيَّةِ لِأَنَّهُمْ سَيَسْتَغْمِلُونَهَا

فِي الْمَسْرَحِيَّةِ.



6- أَحْسِبُ الْمَبْلَغَ الَّذِي قَدَّمْتُهُ الْمُعَلِّمَةُ لِكُلِّ تَلْمِيذٍ

7- أَرْتَبُ الْمَبَالِغَ تَنَازُلِيًّا

..... < ..... < .....

8- أُمَثِّلُ مَبْلَغَ عَزِيزٍ بِأَقْلِّ قِطْعٍ



9- أُمَثِّلُ مَبْلَغَ بَ 6 قِطْعٍ



مع 3 أ

--	--	--

مع 2 أ

--

مع 3 ب

--

مع 3 ب

--







الْعَدَدُ الَّذِي يَأْتِي مُبَاشَرَةً قَبْلَ 38 : .....

الْعَدَدُ الَّذِي يَأْتِي مُبَاشَرَةً قَبْلَ 70 : .....

الْعَدَدُ الَّذِي يَأْتِي مُبَاشَرَةً بَعْدَ 23 : .....

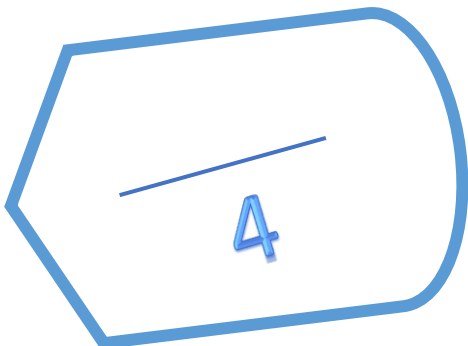
الْعَدَدُ الَّذِي يَأْتِي مُبَاشَرَةً بَعْدَ 59 : .....

الْعَدَدُ الْمَحْصُورُ بَيْنَ 76 و 78 : .....


$50 + 8 = \dots\dots\dots$

عَدَدُ رَقْمٍ عَشْرَاتِهِ 3 وَ رَقْمٍ آحَادِهِ 9 : .....

أَفْكَكُ إِلَى الصِّغَةِ الْقَانُونِيَّةِ 83 = ..... + .....



حساب ذهني	معايير التمييز	معايير الحد الأدنى					
		مع 5	مع 4 أ	مع 3	مع 2 ب	مع 2 أ	مع 1 أ
	1	0	0	0	0	0	انعدام التملك ( - - - )
	1	1	1	1	0.5	0.5	دون التملك الأدنى ( - - + )
	2	2	2	2	1	1	التملك الأدنى ( - + + )
	2	3	3	3	1.5	1.5	التملك الأقصى ( + + + )
4/....	4/....	3/...	3/....	3/...	1.5/....	1.5/....	



### صديقي الصغير يجب أن :

- ❖ أسطر المدلول العددي و اللفظي
- ❖ أنتبه إلى التعليمات
- ❖ أتأكد من صحة الحساب .
- ❖ أكتب الوحدة مع المبالغ المالية (مى)
- ❖ أحرص على نقل الأعداد بطريقة سليمة من التعليمات
- ❖ أكتب بخط واضح






# تقييم الثلاثي الثالث : إيقاظ علمي

## المربية : هالة السافي

الاسم و اللقب : .....

السنة الأولى

يَوْمَ الْعُطْلَةِ، سَاعَدَ الْأَطْفَالُ أُمَّهُ فِي تَنْظِيفِ الْمَنْزِلِ.



1- أَكْتُبْ تَحْتَ كُلِّ صُورَةٍ : قُوَّةُ رَفْعٍ - قُوَّةُ إِسْقَاطٍ  
- قُوَّةُ دَفْعٍ

مع 1

--	--

إِهْتَمَّتْ أُمُّهُ بِتَنْظِيفِ الثَّلَاجَةِ وَطَلَبَتْ مِنَ الْأَطْفَالِ  
تَحْدِيدَ وَسَطِ تَنْقُلِ الْحَيَوَانَاتِ الْمُجَمَّدَةِ.

2- أَرْبُطْ بِسَهْمٍ:

مع 1

فِي الْبَرِّ

فِي الْجَوِّ

فِي الْمَاءِ



قَدَّمْتُ الْأُمُّ بَعْضَ الْإِسْتِنَاجَاتِ.

3- أَكْمَلُ بِمَا يُنَاسِبُ: زَعَانِفٌ - ثَقِيلٌ - سِبَاحَةٌ -

الطَّيْرَانِ

لَا تَسْتَطِيعُ الدَّجَاجُ ..... لِأَنَّ جِسْمَهَا  
..... أَمَّا السَّمَكَةُ فَتَتَنَقَّلُ سِبَاحَةً

لِأَنَّ لَهَا .....

مع 1



مع 2

لِثَمِيزِ الْأُمِّ أَكْيَاسَ اللَّحْمِ وَضَعَتْ صُورًا.

#### 4- أَلَوْنُ عَضْوٍ تَنْقُلُ كُلَّ حَيَوَانٍ:

مع 1

--	--



أَرَادَتْ رِهَامُ تَنْظِيفَ الْبُوقَالِ فَطَلَبَتْ مِنْهَا عَدَمَ إِخْرَاجِ السَّمَكَةِ.

#### 5- أَشْطَبُ الْإِفَادَةِ الْخَاطِئَةُ

مع 2

--	--

لِأَنَّ السَّمَكَةَ لَا تَنْتَفَسُ فِي الْمَاءِ.

لِأَنَّ السَّمَكَةَ لَا تَنْتَفَسُ هَوَاءَ الْمُحِيطِ.

إِنْتَهَتْ حَمَلَةُ النَّظَافَةِ جَلَسَ الْأَطْفَالُ يُتَابِعُونَ الصُّورَ  
الْمُتَحَرِّكَةَ " ثُومَ وَ جِيرِي".

#### 6- أَرْبُطُ بِسَهْمٍ:

مع 2

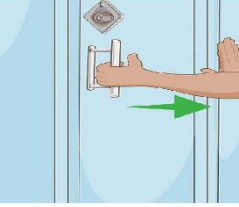
--	--

أَجْنَحَتُهُ قَوِيَّةٌ  
قَوَائِمُهُ قَوِيَّةٌ

يَجْرِي الْقِطُّ وَيَلَاحِظُ الْفَأْرَ لِأَنَّ :



# طَلَبْتُ الْأُمَّ مِنْ رِهَامٍ تَغْيِيرَ مَلَابِسِهَا وَ إِنْجَازَ وَاجِبِهَا.



7- أَكْمَلُ بِمَا يُنَاسِبُ:

مع 1

فَتَحَتْ رِهَامُ الْخِزَانَةَ فَسَلَّطَتْ عَلَى الْبَابِ قُوَّةً .....

## أُسَاعِدُ رِهَامَ فِي إِنْجَازِ تَمَرِينِهَا.



8- أَصْلِحُ الْخَطَأَ إِنْ وُجِدَ:

مع 3

• أَذْفَعُ الْجِسْمَ فَيَقْتَرِبُ مِنِّي.

• يَتَنَفَّسُ الدَّلْفِينُ هَوَاءَ الْمُحِيطِ.

• تَتَنَقَّلُ النَّحْلَةُ سِبَاحَةً بِوَاسِطَةِ الْغِشَاءِ بَيْنَ الْأَصَابِعِ .

• تُسَاعِدُ الْقَوَائِمُ الْجِحْصَانَ عَلَى الْعَدْوِ.

التمييز	معايير الحد الأدنى								انعدام التملك دون التملك الأدنى التملك الأدنى التملك الأقصى المجموع
مع 3	مع 2			مع 1					
0	0			0					
	3	2	1	5	4	3	2	1	
5	4			6					
	6	5		9	8	7			
5/.....	6/.....			9/.....					

